

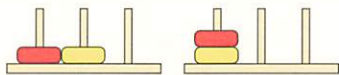


4チームに わかれて 「わなげ ゲーム」を しています。○と ○の わを なげて、 ぼうに とおします。

てんすうの つけかた

○と ○が 1かしょ くつつくごとに、1てんずつ もらえます。

<1てん もらえる ばあいの れい>



<2てん もらえる ばあいの れい>



げんちゃん

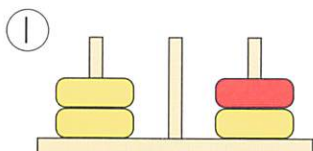
1 ○・○・○・○の 4つの わを なげて、ぼうに とおします。

(1) それぞれの チームの てんすうは なんてんでしょう。□に あてはまる すう字を かきましょう。

れい

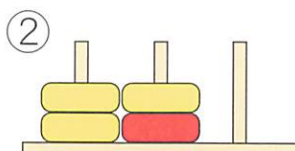


ひかるくんのチーム



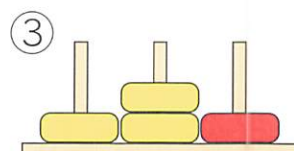
えりちゃんのチーム

てん



たくみくんのチーム

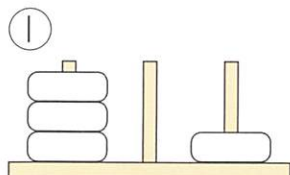
てん



さやかちゃんのチーム

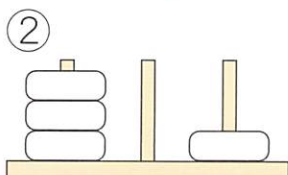
てん

(2) それぞれの チームの てんすうが わかっています。□を あてはまる いろで ぬりましょう。○の ばしょは 4チームとも ちがいました。



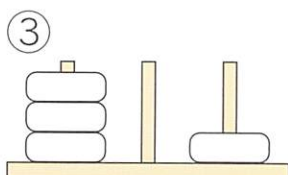
なおきくんのチーム

2 てん



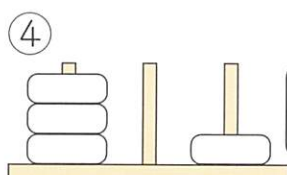
ちはるちゃんのチーム

0 てん



じゅんくんのチーム

1 てん



あかりちゃんのチーム

1 てん

1てんは 2とおり あるよ。



ロイ

(3) それぞれの チームの てんすうと、1つの わが どこに ^{はい} 入ったかが
わかっています。のこりの 3つの わは どこに 入ったのでしょうか。
あてはまる を あてはまる いろで ぬりましょう。

わの 入りかたは 4チームとも ちがうわよ。
2てんは 3とおり あるわ。



①	②	③	④
 あかりちゃんのチーム <div style="border: 1px solid black; padding: 5px; display: inline-block;">3 てん</div>	 やすひこくんのチーム <div style="border: 1px solid black; padding: 5px; display: inline-block;">2 てん</div>	 くみちゃんのチーム <div style="border: 1px solid black; padding: 5px; display: inline-block;">2 てん</div>	 まさひこくんのチーム <div style="border: 1px solid black; padding: 5px; display: inline-block;">2 てん</div>

2 · · · · の 5つの わを なげて、ぼうに とおします。
それぞれの チームの てんすうが わかっています。あてはまる を
あてはまる いろで ぬりましょう。

①	②	③	④
 ひかるくんのチーム <div style="border: 1px solid black; padding: 5px; display: inline-block;">5 てん</div>	 えりちゃんのチーム <div style="border: 1px solid black; padding: 5px; display: inline-block;">4 てん</div>	 げんちゃんのチーム <div style="border: 1px solid black; padding: 5px; display: inline-block;">3 てん</div>	 さやかちゃんのチーム <div style="border: 1px solid black; padding: 5px; display: inline-block;">2 てん</div>

ビグマはかせの
ワンポイント
アドバイス



赤の輪の位置が、ポイントになることに気づきましょう。赤の輪の位置を変えて、それぞれ
何点になるか試してみましょう。