

7

たし算とひき算の利用

学習日 月 日

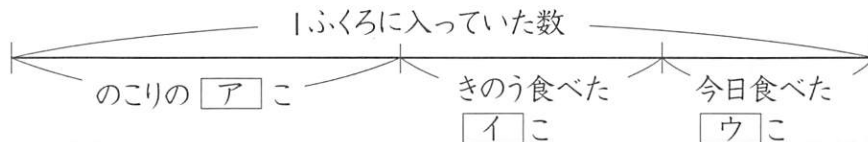
1

〈図を使って式に表す(1)－①〉

次の問いに答えなさい。

- (1) あめを1ふくろ買いました。きのうは6こ、今日は5こ食べたら、のこりは9こになりました。1ふくろに入っていたあめの数をもとめます。

□① 図にかきました。□にあてはまる数を書きなさい。



ア() イ() ウ()

□② あめは、1ふくろに何こ入っていましたか。

(式)

()

- (2) 画用紙が何まいかあります。絵をかくのに4まい使い、工作に3まい使ったら、8まいのこりました。画用紙は、はじめに何まいありましたか。

(式)

()

2

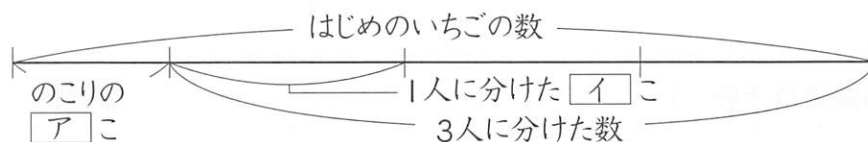
〈図を使って式に表す(1)－②〉

学習日 月 日

次の問いに答えなさい。

- (1) いちごが何こかあります。8こずつ3人の子どもに分けたら、6このこりました。はじめにあったいちごの数をもとめます。

□① 図にかきました。□にあてはまる数を書きなさい。



ア() イ()

□② いちごは、はじめに何こありましたか。

(式)

()

- (2) ある本を、1日9ページずつ4日間読んだら、のこりは、12ページでした。この本は、全部で何ページありますか。

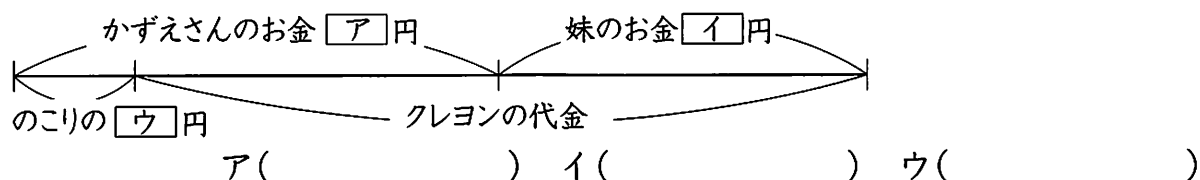
(式)

()

3 <図を使って式に表す(2)ー①> 学習日 月 日
次の問いに答えなさい。

- (1) かずえさんは120円、妹は90円持って買い物に行きました。2人のお金を合わせてクレヨンを買ったら、30円のこりしました。クレヨンの代金をもとめます。

回① 図にかきました。□にあてはまる数を書きなさい。



回② クレヨンの代金は、何円ですか。

(式)

()

- (2) ゆうきさんは、カードを76まい持っています。お兄さんから38まいもらいましたが、友だちに何まいかあげたので、84まいになりました。友だちに何まいあげましたか。

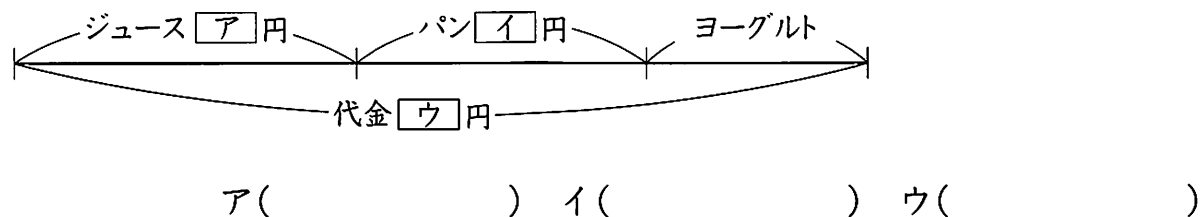
(式)

()

4 <図を使って式に表す(2)ー②> 学習日 月 日
次の問いに答えなさい。

- (1) 140円のジュースを1本と、120円のパンを1こと、ヨーグルトを1こ買ったら、代金は全部で355円でした。ヨーグルト1この代金をもとめます。

回① 図にかきました。□にあてはまる数を書きなさい。



回② ヨーグルト1この代金は、何円ですか。

(式)

()

- (2) はるとさんの学校の3年生は3組まであります。1組の人数は31人、3組の人数は33人で、学年全体の人数は96人です。2組の人数は何人ですか。

(式)

()

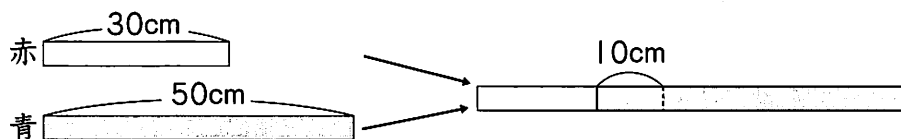
5

〈重なりのある問題①〉

学習日 月 日

次の問いに答えなさい。

- (1) 下の図のように、30cmの赤いリボンと、50cmの青いリボンをつなぎました。つなぎ目の長さは10cmです。



- 回① 赤いリボンの長さ^{しき}と青いリボンの長さ^{しき}を合わせると、何cmですか。

(式)

()

- 回② つないだ^{ぜん}全体の長さは、何cmになりましたか。

(式)

()

- 回(2) 25cmのリボンが2本あります。2本のリボンをつなぐとき、つなぎ目を5cmにすると、全体の長さは、何cmになりますか。

(式)

()

- 回(3) 18cmのリボンと、26cmのリボンがあります。2本のリボンをつなぐとき、つなぎ目を3cmにすると、全体の長さは、何cmになりますか。

(式)

()

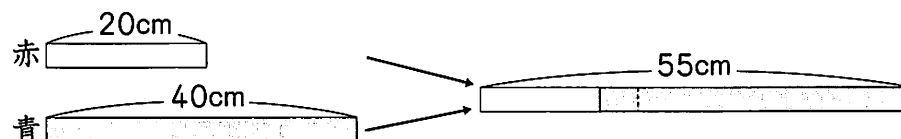
6

〈重なりのある問題②〉

学習日 月 日

次の問いに答えなさい。

- 回(1) 下の図のように、20cmの赤いリボンと、40cmの青いリボンをつないだら、全体の長さが55cmになりました。つなぎ目の長さは、何cmですか。



(式)

()

- 回(2) 35cmのリボンが2本あります。2本のリボンをつないで、全体の長さを65cmにするには、つなぎ目の長さを何cmにすればよいですか。

(式)

()



〈いろいろな問題〉

学習日 月 日

次の問いに答えなさい。

- (1) びんに入ったうめぼしがあります。朝3こ食べ、夜2こ食べたので、のこりは5こになりました。はじめにびんに入っていたうめぼしは、何こですか。

(式)

()

- (2) ゆういちさんが、おばあさんからもらった60円と、おじいさんからもらった80円をちょ金箱の中に入れて、ちょ金箱に入っているお金は、全部で352円になりました。お金をもらう前、ちょ金箱には何円入っていましたか。

(式)

()

- (3) さゆりさんは、春休みに50この漢字をおぼえることにしました。同じ数ずつ4日間おぼえましたが、まだ30このこっています。1日に何こずつおぼえましたか。

(式)

()

- (4) たけおさんは本を買おうとしましたが、持っているお金ではたりないので、お母さんから100円もらいました。そして、240円の本を買ったら、65円のこりしました。たけおさんは、はじめに何円持っていましたか。

(式)

()

計算マスター ④ たし算・ひき算

暗算でしなさい。

□(1) $12 + 25$

□(2) $19 + 34$

□(3) $36 + 28$

□(4) $72 + 44$

□(5) $56 + 57$

□(6) $53 + 78$

□(7) $46 - 13$

□(8) $28 - 19$

□(9) $81 - 14$

□(10) $60 - 26$

□(11) $77 - 49$

□(12) $95 - 87$