

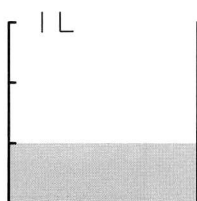
レベル

24 - ①

名前


1 下の図の水のかさは何Lですか。

(1)




( )

(2)



( )

(3)



( )

2 次の□にあてはまる数をかきましょう。

(1)

$\frac{6}{7}$ は $\frac{1}{7}$ を

こあつめた数です。

(2)

1は $\frac{1}{3}$ を

こあつめた数です。

(3)

$\frac{8}{9}$ は $\frac{1}{9}$ を

こあつめた数です。

(4)

$\frac{7}{18}$ は $\frac{1}{18}$ を

こあつめた数です。

(5)

$\frac{4}{5}$ は

を4こあつめた数です。

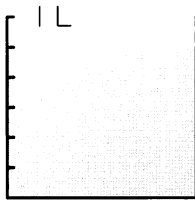
レベル

24 - ②

名前

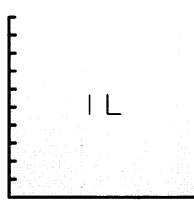
1 下の図の水のかさは何Lですか。

(1)



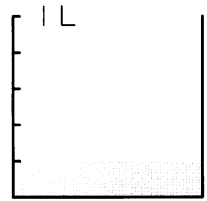
( )

(2)



( )

(3)



( )

2 次の□にあてはまる数をかきましょう。

(1)  $\frac{2}{3}$  は  $\frac{1}{3}$  を □ にあつめた数です。

(2)  $\frac{7}{8}$  は  $\frac{1}{8}$  を □ にあつめた数です。

(3)  $\frac{8}{15}$  は  $\frac{1}{15}$  を □ にあつめた数です。

(4) 2 は  $\frac{1}{2}$  を □ にあつめた数です。

(5)  $\frac{10}{7}$  は □ を 10 にあつめた数です。