

16 平行線・多角形と角(1)

テキスト P.98 ~ 103

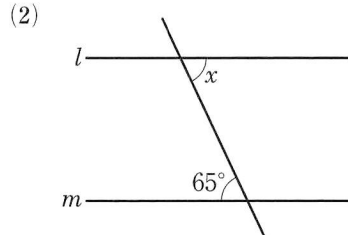
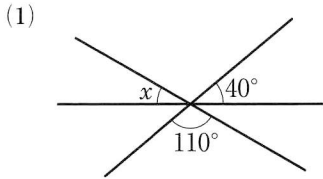
クラス 氏名

得点

/20

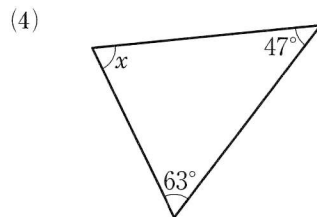
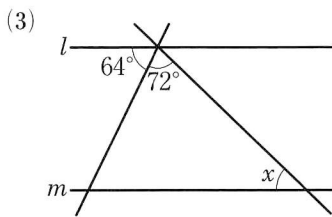
1 次の $\angle x$ の大きさを求めなさい。(2), (3)は $l \parallel m$ である。

[各2点×8]



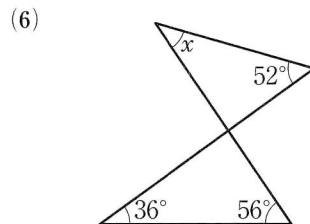
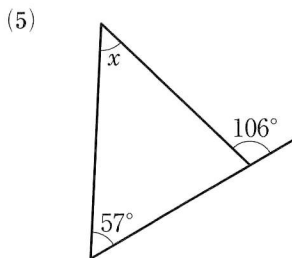
(1) _____

(2) _____



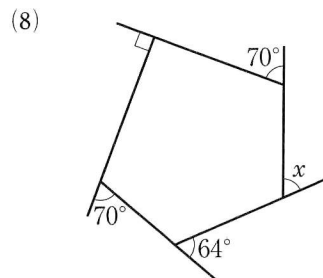
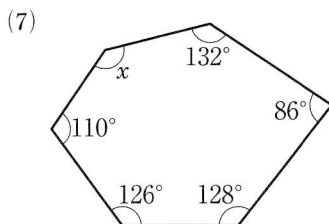
(3) _____

(4) _____



(5) _____

(6) _____



(7) _____

(8) _____

2 次の問いに答えなさい。

[各2点×2]

(1) 九角形の内角の和を求めなさい。

(2) 正十二角形の1つの外角の大きさを求めなさい。
