

17

平行線・多角形と角(2)

テキスト P.104 ~ 107

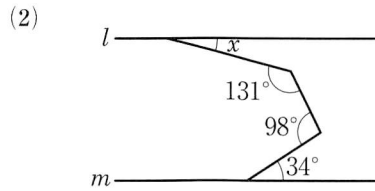
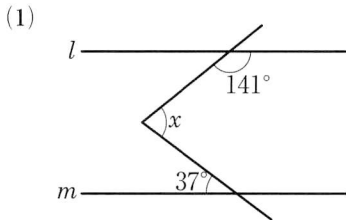
クラス 氏名

得点

/20

1 次の $\angle x$ の大きさを求めなさい。ただし、 $l \parallel m$ である。

[各3点×2]

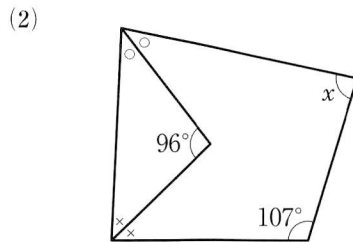
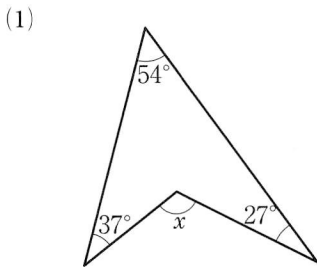


(1) _____

(2) _____

2 次の $\angle x$ の大きさを求めなさい。(2)では、同じ印のついた角の大きさは等しいものとする。

[各3点×2]



(1) _____

(2) _____

3 次の図で、印のついた角の大きさの和を求めなさい。

[各4点×2]

