

組分けテスト

※ 問題用紙は(その1)から(その4)までありますから、注意してください。

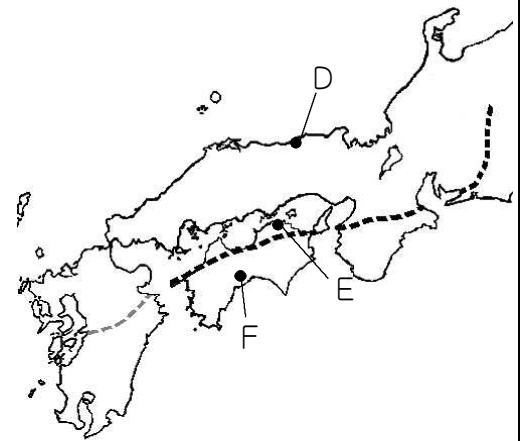
※ 答えは、別紙の解答らん(かいとう)に書き入れなさい。

1
20

次の文を読んで、後の問いに答えなさい。

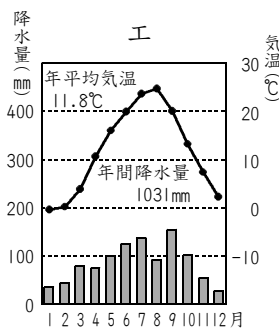
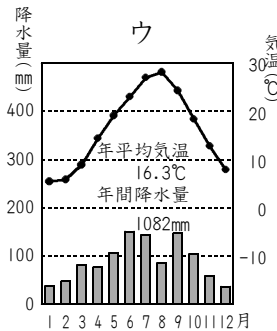
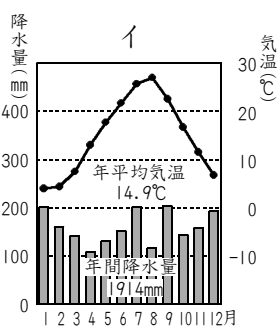
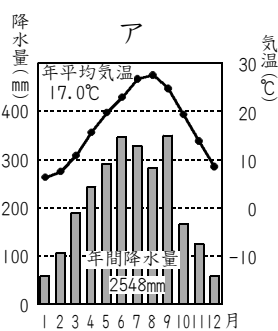
みなさんは、右の地図に点線(しめ)で示したような線(さかい)を境(ちそう)に、西日本の地層(土や石などが積もった層)が分けられるという説を知っていますか。この線を境に大地のつくりや岩石の種類などが大きく異なっているのです。

①中部地方では、この線が三重県北部の旧国名から名づけられたA湾を通り、木曾山脈とB山脈という日本アルプスの2つの山脈の間を通っています。境の北側には、九州地方のC山地と②中国山地がありますが、2つの山地は昔、連なっていたとされています。同様に境の南側にある③四国山地も九州地方の山地と④紀伊半島の山地と連なっていたと考えられています。この境の周囲には、地震の原因となる地層が多く見られることから、地震の研究の中でとりあげられることもあります。



問1 A～Cにあてはまることばをそれぞれ答えなさい。

問2 地図のD～Fの県庁所在地(けんちょうしよざい)のいずれにもあてはまらない気候グラフを次から選んで、記号で答えなさい。



問3 下線①にふくまれる北陸地方について述べた文として正しいものを次から選んで、記号で答えなさい。

- ア 県の名と県庁所在地の名が異なる県はありません。
- イ 人口が100万人を下回る県はありません。
- ウ めがねわくや洋食器の製造など地場産業が発達した地域があります。
- エ 平野にある水田では、小麦との二毛作がさかんに行われています。

問4 下線②を流れる川を次からすべて選んで、記号で答えなさい。

- ア 大淀川 イ 高梁川 ウ 瀬田川 エ 太田川 オ 江の川

問5 下線③について、次の問いに答えなさい。

- 1 四国山地を水源とする川に四国三郎ともよばれる川があります。この川の河口がある平野の名を解答らん(かいとう)に合うように漢字で答えなさい。
- 2 右の表のア～エには、四国地方のいずれかの県があてはまります。四国山地がふくまれない県を右の表から選んで、記号で答えなさい。また、その県の県庁所在地の名を漢字で答えなさい。

県	生産量(ト)		面積(k㎡)
	みかん	なす	
ア	11100	1800	1877
イ	11800	6670	4147
ウ	7500	40800	7104
エ	125400	3630	5676

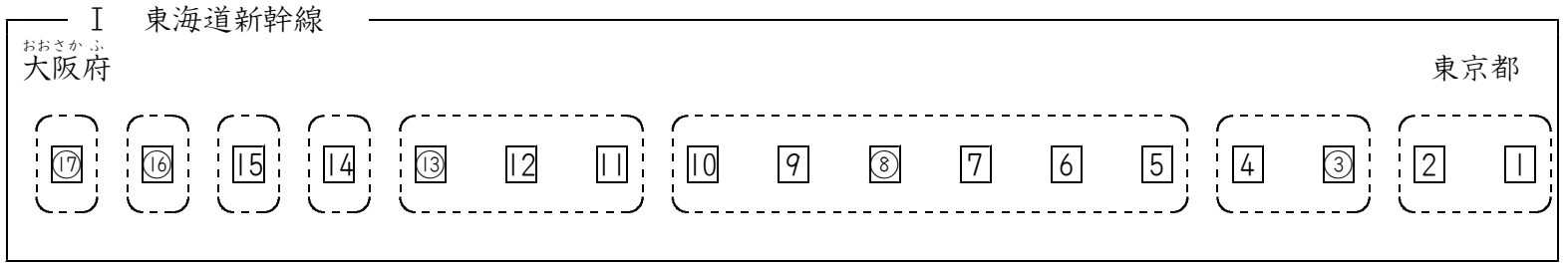
(県勢 2021)

問6 下線④について、次の問いに答えなさい。

- 1 紀伊半島にふくまれ、真珠の養殖に世界で初めて成功した場所がある半島の名を解答らん(かいとう)に合うように答えなさい。
- 2 紀伊半島では古くから林業がさかんでした。かつては、伐採した木材をGに組んで、下流の都市に運んでいました。Gにあてはまることばをひらがな3字で答えなさい。

2
50

次のⅠ～Ⅲの図は、東海道新幹線・山陽新幹線・九州新幹線の駅を東京駅を①として下りの終着駅まで順に番号で示したものです。点線の枠は都府県を表し、同じ枠内にある駅は同じ都府県にあることを示しています。図には都府県名が示されていないものもあります。番号に○がある駅は府県庁所在地にある駅を示しています。これを見て、後の問いに答えなさい。



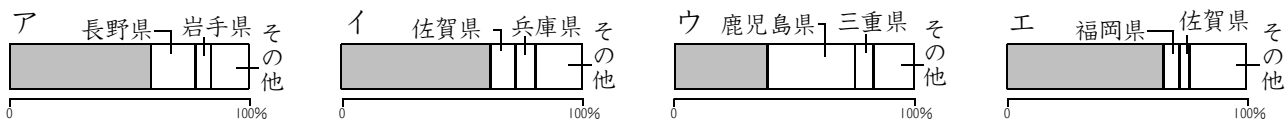
問1 ③駅は、府県庁所在地にあります。この府県庁所在地にある貿易港の輸出額上位3品目とその割合(2019年)を示したものを次から選んで、記号で答えなさい。

品目	%	品目	%	品目	%	品目	%
自動車	19.6	半導体等製造装置	8.1	衣類	8.9	液化ガス	8.4
自動車部品	4.5	科学光学機器	6.2	コンピューター	5.3	石油	7.8
内燃機関	4.5	金	5.7	肉類	4.6	衣類	7.1

(財務省)

問2 ⑤駅～⑩駅のある府県について、次の問いに答えなさい。

1 この府県は、ある農作物の都道府県別生産量が全国1位です。この農作物の生産量割合を示したグラフを次から選んで、記号で答えなさい。ただし、グラフの■は、1位の都道府県を示しています。また、ア～エは小麦、茶、たまねぎ、りんごのいずれかです。



(農林水産省)

2 この府県で新幹線が渡る川を次からすべて選んで、下りの新幹線が渡る順に記号で答えなさい。

- ア 信濃川 イ 天竜川 ウ 大井川 エ 有田川 オ 富士川

問3 ⑪駅～⑬駅のある府県について、次の問いに答えなさい。

1 この府県の工業について述べた文として正しいものを次から選んで、記号で答えなさい。

- ア 製鉄所がなく、海外から輸入した鉄鋼を利用した自動車の生産がさかんに行われています。
 イ この府県をふくむ工業地帯は、第二次世界大戦前までは生産額が日本一の工業地帯でした。
 ウ 府県庁所在地でもある企業城下町を中心に工業が発達しています。
 エ せんい工業やよう業の都道府県別生産額は、この府県が日本一です。

2 ⑬駅の手前で、東海道新幹線は知多半島に引かれている用水の下を通過します。用水としては日本一の長さをほこるこの用水の名を解答らんには合うように漢字で答えなさい。

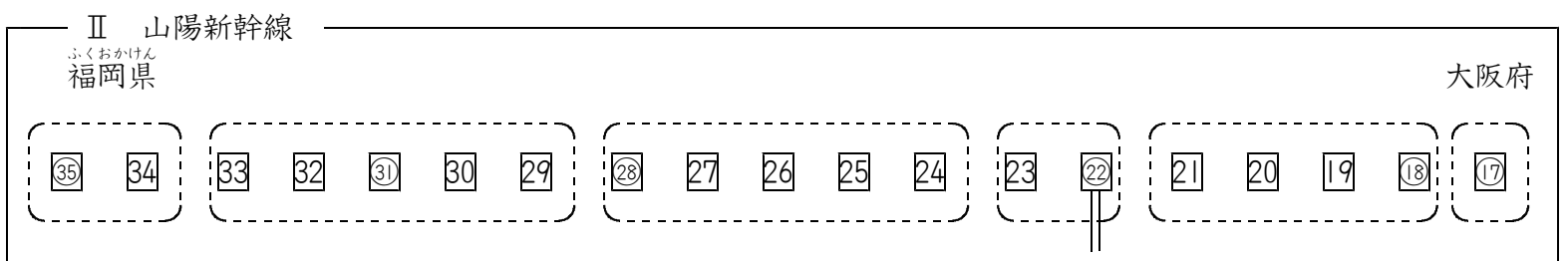
問4 ⑭駅は、この駅がある府県ととなりの府県に広がる平野にあります。この平野の名を解答らんには合うように答えなさい。

問5 ⑮駅のある府県で、府県の面積の約6分の1をしめるものを次から選んで、記号で答えなさい。

- ア 播磨平野 イ 鈴鹿山脈 ウ 丹波高地 エ 琵琶湖

問6 ⑯駅のある府県で生産されている陶磁器を次から選んで、記号で答えなさい。

- ア 備前焼 イ 清水焼 ウ 益子焼 エ 信楽焼



問7 19駅がある都市の対岸には、瀬戸内海で最も大きな島があります。この島の名を漢字で答えなさい。また、この島について述べた文として正しいものを次から選んで、記号で答えなさい。

- ア 北緯35度の日本標準時子午線が通っています。 イ 世界遺産に登録されているものがあります。
 ウ 沿岸ではのりの養殖がさかんです。 エ 天然記念物のときの飼育が行われています。

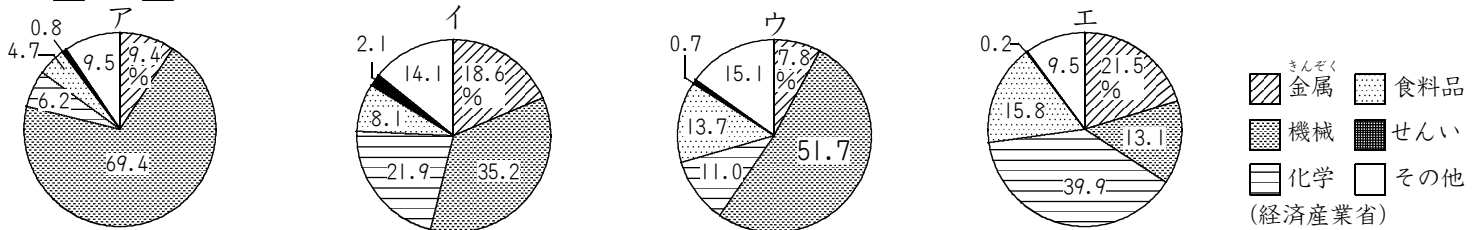
問8 22駅からのびている＝は、本州四国連絡橋の1つを示しています。この駅で乗り換えて在来線の鉄道で四国に渡ることができます。この橋を次から選んで、記号で答えなさい。

- ア 大鳴門橋 イ 瀬戸大橋 ウ 明石海峡大橋 エ 瀬戸内しまなみ海道

問9 24駅～28駅のある府県について、次の問いに答えなさい。

- 1 この府県について述べた文として正しいものを次から選んで、記号で答えなさい。
 ア 日本三名園に数えられる庭園があります。 イ 日本三景に数えられる観光地があります。
 ウ 三大急流に数えられる川が流れています。 エ 三大美林に数えられる森林があります。
- 2 この府県の工業都市とそこでさかんに行われてきた工業の組み合わせとして正しいものを次から選んで、記号で答えなさい。
 ア 呉市・造船業 イ 福山市・石油化学工業 ウ 宇部市・セメント工業 エ 倉敷市・鉄鋼業

問10 29駅～33駅のある府県をふくむ工業地域の工業別生産額割合を示したグラフを次から選んで、記号で答えなさい。



問11 33駅から34駅に向かうときには海底トンネルを通ります。このトンネルが通る海峡の名を解答らんには合うように漢字で答えなさい。

問12 34駅と35駅について、次の問いに答えなさい。

- 1 34駅と35駅は、ともに、普通の都市より政治を進める権限や仕事を多くあたえられている都市にあります。全国に20あるこのような都市を何といいますか。漢字で答えなさい。
- 2 34駅がある都市には、国が建設し、1901年に生産を開始した製鉄所があります。この都市の名を漢字で答えなさい。
- 3 35駅の名を解答らんには合うように漢字で答えなさい。

問13 九州新幹線は、35駅から36駅へ向かうときに一度福岡県から出ます。次に、36駅から37駅に向かうときに再び福岡県に入ります。36駅のある府県の名を漢字で答えなさい。また、37駅のある都市では、ゴム工業とともに古くから織物の生産がさかんです。伝統的工芸品に指定されているこの織物の種類を次から選んで、記号で答えなさい。

- ア びんがた イ ちぢみ ウ つむぎ エ かすり オ ゆうぜん

問14 40駅～43駅のある府県の八代平野を中心に栽培がさかんで、この府県が国内の生産量のほとんどをしめる工芸作物の名を答えなさい。

問15 46駅の周辺から桜島が見えます。桜島が陸続きとなっている半島の名を解答らんには合うように答えなさい。

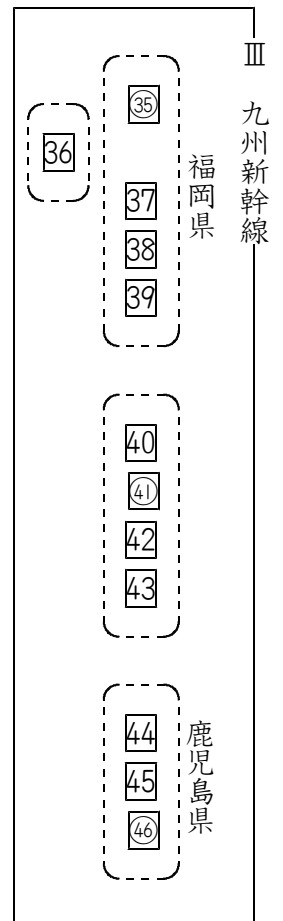
問16 九州新幹線が通る4つの府県のうち3つが面している海の名を漢字で答えなさい。

問17 I～IIIの新幹線が通る府県のうち、府県の名と異なる名の府県庁所在地にある駅をI～IIIの図から3つ選んで、番号で答えなさい。

問18 I～III以外の新幹線で、新潟駅を上りの始発駅とする新幹線の名を解答らんには合うように答えなさい。

問19 駅の売店ではその都府県の名産品が販売されています。駅と名産品の組み合わせとして正しくないものを次から選んで、記号で答えなさい。

- ア 10駅：うなぎの粉末を使ったお菓子 イ 17駅：いちご「あまおう」のパック
 ウ 22駅：マスカットのゼリー エ 46駅：黒豚のハム



3
30

次の文を読んで、後の問いに答えなさい。

昨年(2020年)猛威をふるった新型コロナウイルスによる混乱は、①イギリスや南アフリカで変異したウイルスが見つかるなど、まだ続いています。日本も大きな影響を受けました。海外との交流では②日本の輸出額も輸入額も前年より減少しました。物だけでなく人の交流も大きく減りました。日本では、生まれてくる子どもの数が減る **A** が進み、③人口が減少していることが、5年に一度全国的に行われる **B** 調査などからわかっています。そこで、④海外から旅行客を招いて、国内の消費を増やす試みを続けてきました。しかし、外国からの入国が制限されたため、⑤航空会社、宿泊業などの観光に関連する産業が大きな打撃を受けました。感染防止のため、学校の休校や通勤者を減らす試みが行われ、⑥インターネットによる授業やテレワークが広まりました。感染防止の試みが進む一方で、⑦患者や医療関係者への差別的な言動が問題となりました。

問1 **A**・**B** にあてはまることばをそれぞれ漢字で答えなさい。

問2 下線①の国旗を次から選んで、記号で答えなさい。



問3 下線②について、次の問いに答えなさい。

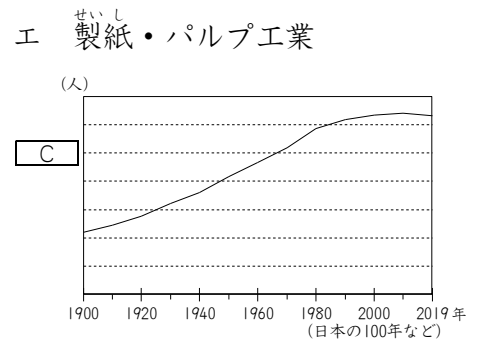
1 日本から輸出する自動車の輸出額が最大である相手先(2019年)を次から選んで、記号で答えなさい。

ア ドイツ イ 中国 ウ アメリカ エ 韓国

2 日本全体の輸入額が減る一方で、不織布のマスクの輸入額は大きく増えました。さらに日本国内での生産も増えました。マスクをつくる工業の種類を次から選んで、記号で答えなさい。

ア 電子工業 イ よう業 ウ せんい工業 エ 製紙・パルプ工業

3 今年(2021年)は新型コロナウイルスのワクチンが輸入されています。泉佐野市の沖合いにある貿易港では、2017年から2019年にかけて、輸入額1位の品目が医薬品でした。この貿易港の名を漢字で答えなさい。



問4 下線③について、右のグラフは、日本の人口の移り変わりを示したものです。**C** にあてはまる数を次から選んで、記号で答えなさい。

ア 8千万 イ 1億 ウ 1億2千万 エ 1億4千万

問5 下線④について、次の問いに答えなさい。

1 海外からの旅行客やそれらの人々が日本を訪れることを何といいますか。カタカナで答えなさい。

2 2019年までは、中国や韓国など日本の近隣の国から日本を訪れる外国人が多くいました。近隣の国とは交流がさかんな一方、国境について意見が対立する場合があります。中国と領有について意見が対立している島を次から選んで、記号で答えなさい。

ア 竹島 イ 尖閣諸島 ウ 歯舞群島 エ 小笠原諸島

問6 下線⑤は第何次産業に分類されますか。解答らんには合うように数字で答えなさい。

問7 下線⑥について、次の問いに答えなさい。

1 下線⑥の利用者同士の交流を目的とした登録制のしくみの略称を次から選んで、記号で答えなさい。

ア ATM イ LNG ウ SNS エ ETC

2 下線⑥を利用する際には、個人情報のあつかに注意しなければなりません。個人情報として正しくないものを次から選んで、記号で答えなさい。

ア 自宅の住所 イ 携帯電話の番号 ウ 自分の生年月日 エ 通信販売で買った品物の名

3 下線⑥などで得られる多くの情報から必要な情報を選択し、判断して利用する力のことを何といいますか。カタカナで答えなさい。

問8 下線⑦のような言動は、かつて原因が特定できない時期の四大公害病の患者に対しても見られました。四大公害病について、次の問いに答えなさい。

1 水俣病の原因物質を次から選んで、記号で答えなさい。

ア 有機水銀 イ カドミウム ウ りん エ 二酸化硫黄

2 イタイイタイ病が流域で発生した川の名を漢字で答えなさい。